

# 2017—2018 学年度（下）期末教学测评

## 小学二年级数学

### 一、算一算。（25 分）

#### 1. 口算。

$18 \div 4 =$

$300 + 700 =$

$260 + 400 =$

$45 \div 9 =$

$520 - 60 =$

$430 - 200 =$

$1500 - 700 =$

$15 \div 6 =$

$730 - 240 =$

$80 + 350 =$

$9 \div 2 =$

$600 - 70 =$

#### 2. 竖式计算。要求验算的要验算。

$32 \div 9 =$


$63 \div 8 =$

$562 + 356 =$

$430 - 238 =$

验算：

### 二、填一填。（37 分）



1. 这个数写作（ ），它里面有（ ）个千和（ ）个十。

#### 2. 找规律，填一填。

(1) ( ), 9999, 9998, ( ), 9996, 9995.

(2) 3608, 3708, ( ), 3908, ( ), 4108.

(3) 525, 550, ( ), ( ), 625, 650.

#### 3. 填上适当的单位名称。

一幢楼房高约 50 ( )；

1 元硬币厚约 2 ( )；

一枝粉笔长约 1 ( )；

一辆高铁动车每小时行驶约 210 ( )；

芳芳跑 50 米用了 9 ( )；

爸爸每天工作 8 ( )。

4、30 毫米 = ( ) 厘米


5m = ( ) dm

3 千米 = ( ) 米

110 秒 = ( ) 分 ( ) 秒

5、分针走 1 小格是 ( ) 分，这时秒针正好走 1 圈，是 ( ) 秒。

6、○○□○○□○○□……是以 ( ) (请把图形画出来) 为一组在重复，下一个图形是 ( )。

7、 图中有 ( ) 个直角，( ) 个锐角，( ) 个钝角。

8、 $\square \div \triangle = \bigcirc \cdots 5$ ， $\triangle$  中最小能填 ( )。

9、在○里填上“>”、“<”或“=”。

5743 ○ 5734

999 ○ 1000

7802 ○ 8702

376+48 ○ 48+376

700-156 ○ 700-165

380+46 ○ 59+370

10、星期六晚上，笑笑参加了一场读书会，这场读书会用时 ( ) 分。



( : ) 开始

( : ) 结束


11、用小棒拼一个长方形，已经用了长度分别是 3 厘米、7 厘米、7 厘米的 3 根小棒，第 4 根小棒的长度是 ( ) 厘米。

三、画一画。(7 分)

1、接着画一个正方形。

2、20 人，每船 8 人，至少需要几条船？

(先画一画，再算一算。)



$\square \bigcirc \square = \square ( ) \cdots \square ( )$

答：至少需要        条船。

四、看一看，填一填。(4分)



- 1、学校在体育馆的( )面，电影院的北面是( )。
- 2、体育馆的东面是少年宫，公园在体育馆的西南面，请在图中写出来。

五、调查记录。(6分)

二、一班要订做班服，下面是他们调查的同学们最喜欢的颜色情况：

红色	蓝色	绿色	黄色
正一	正正正		正

- 1、最喜欢红色的有( )人；最喜欢蓝色的比最喜欢黄色的多( )人。
- 2、最喜欢绿色的有8人，请用正字法在表中画出来。
- 3、二、一班一共有( )人。
- 4、根据调查结果，班服的颜色应选择( )色。

六、解决问题。(22分)

- 1、有22枝花，平均插到4个花瓶里，每个花瓶插几枝？还剩几枝？



$$\square \div \square = \square (\quad) \dots \square (\quad)$$

答：\_\_\_\_\_。

- 2、包装一盒生日蛋糕要用2米长的缎带，一条15米长的缎带，最多可以包装几盒这样的生日蛋糕？



$$\square \bigcirc \square = \square (\quad) \dots \dots \square (\quad)$$

答: \_\_\_\_\_.

3. 买班级体育用品。



花了 249 元


花了 186 元

(1) 估一估, 李老师带了 450 元, 够不够? \_\_\_\_\_

(2) 李老师一共花了多少元?

$$\square \bigcirc \square = \square (\quad) \quad \text{答: } \underline{\hspace{2cm}}$$

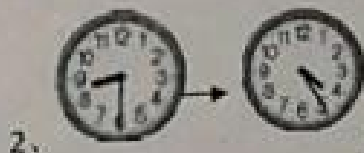
4. 文具店有多少枝钢笔?



$$\square \bigcirc \square = \square (\quad) \quad \text{答: } \underline{\hspace{2cm}}$$

附加题:

$$\begin{array}{r} \square \\ 7 \overline{) 4 \square} \\ \underline{\square 0} \\ 2 \end{array} \quad \begin{array}{r} \square \\ \square \overline{) 50} \\ \underline{\square \square} \\ 5 \end{array} \quad \begin{array}{r} \square 3 7 \\ + \square 8 \square \\ \hline 6 \square 0 \end{array} \quad \begin{array}{r} \square 3 7 \square \\ - \quad 3 \square 2 \\ \hline \square 8 \square \end{array}$$



2.

这是淘气的到校时间和放学时间, 他一天在校多长时间?

(可以先画一画哦!)